

705 Им



Городская олимпиада младших школьников и обучающихся 5-6-х классов «Тулячок» 2024-2025 учебного года по окружающему миру Школьный этап 3 класс

Шифр участника 321

Время выполнения: 45 минут
Количество баллов: 100

Задание 1. Блиц – турнир: прочитайте вопросы и запишите ответы.

- 1. Плодами какого дерева являются желуди? Дуб.
2. Сколько дней в апреле? 28 или 29-30.
3. Если ты строишь лицом к северу, то справа от тебя запад.
4. Какая птица выводит птенцов зимой? Кукушка.
5. Какое хвойное дерево сбрасывает хвою осенью? Лиственница.
6. Что теряет лось каждую зиму? Рога.
7. Где раньше тает снег: в лесу или в городе? В городе.
8. Начало реки - устье.
9. Когда в России празднуется День Победы? 9 мая.
10. Флаг России состоит из полос белый, синий, красный цвета.

75

Задание 2. Выберите правильный ответ.

- 1. Я могу принимать любое из трёх состояний: жидкое, твёрдое и газообразное. а) ртуть б) вода в) древесина г) железо
Ответ: вода.
2. Я не являюсь птицей. а) пингвин б) страус в) летучая мышь г) глухарь
Ответ: летучая мышь.
3. Меня называют «цветок солнца», из моих семян изготавливают масло. а) мак б) кокосовая пальма в) одуванчик г) подсолнух
Ответ: подсолнух.
4. Я – особое вещество. Я займу всё предоставленное мне пространство. а) газ б) соль в) песок г) жидкость
Ответ: газ.
5. Я – космическое тело, часто имею спутники, не излучаю свет. а) комета б) Солнце в) планета г) Луна
Ответ: планета.

55

Задание 3. Из зёрен и плодов каких растений изготавливаются данные крупы?

Запиши ответ. Слова для выбора: овёс, гречиха, ячмень, пшеница, просо.

- 1. Манная - пшеница.
2. Перловая - ячмень.
3. Пшённая - просо.
4. Гречневая - гречиха.
5. Овсяная - овёс.

55

Задание 4. Подберите каждому слову из первого столбика соответствующее ему слово из второго. Заполни вторую строку таблицы выбранными буквами.

1. Париж	а) Египет
2. Пекин	б) Франция
3. Берлин	в) Россия
4. Каир	г) Китай
5. Москва	д) Германия

1	2	3	4	5
Б	Г	Д	Ж	В

58

Задание 5. Найдите 5 названий крупных рек России. Запиши их.

БРАСВОЛГАУКРВШЕНИСЕЙЦЫЧАРКАМУРВСЕОБЪДИВЛЕНАРАВ

Ответ: Волга, Дунай, Лена,

38

Задание 6. Узнайте природное явление по его описанию. Запиши ответ.

Природное явление	Ответ
1. Капельки воды, которые покрывают растения и поверхности в ранние часы в тёплое время года	Роса.
2. Электрический разряд в небе, сопровождающийся громким звуком	Молния.
3. Маленькие льдинки, которыми иногда сопровождается летний дождь	Град, снег.
4. Снегопад с сильным ветром	Буря.

48

Задание 7. Разгадайте кроссворд «Полезные ископаемые»

			5	р	а	н	и	т	+
2	у	2	о	к	б				+
			3	и					
			4	ж	е	р	т	б	+
5	в	о	г	а					-

45

1. Прочное полезное ископаемое, состоящее из зёрен полевого шпата, кварца и слюды.
2. Горючее полезное ископаемое, образовавшееся из частей древних растений под землей без доступа кислорода, добываемое в шахтах.
3. Полезное ископаемое белого или серого цвета, использующееся в строительстве, изготовлении мела, побелки и зубного порошка.
4. Ценное полезное ископаемое в виде густой горючей масляной жидкости, добываемое из скважин.
5. Природное минеральное образование, содержащее соединения металлов.

Ключевое слово. Полезное ископаемое, используемое в строительстве.
 Ответ: глина

Задание 8. Установите соответствие, укажи стрелкой.

Браконьерство	Обмеление рек
Выброс выхлопных газов автомобилями	Исчезновение видов животных
Заготовка древесины	Загрязнение воздуха
Вырубка леса по берегам рек	Уменьшение количества лесов на земле

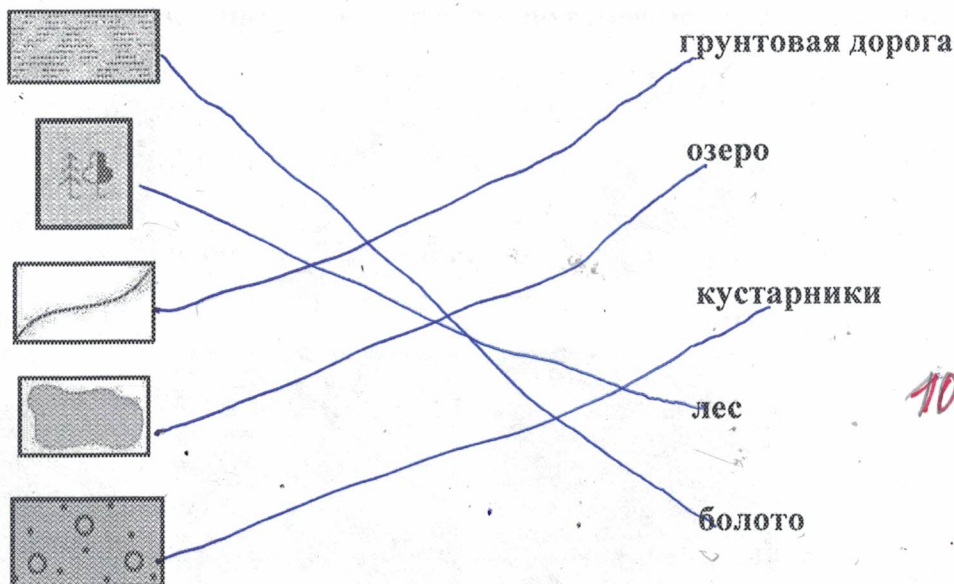
48

5. Как правильно и безопасно перейти дорогу, выйдя из автобуса? Ответ: 3 15

- 1) обойти автобус сзади;
- 2) обойти автобус спереди;
- 3) дождаться, когда автобус уедет, и переходим проезжую часть по ближайшему пешеходному переходу.

Задание 12. Соедините знак и его значение линиями.

Соотнеси объекты на плане местности с их условными знаками:



Задание 13. О каком веществе идёт речь?

Не имеет ни цвета, ни запаха, ни вкуса; встречается в природе в трех физических состояниях: твердое тело, жидкость, газ; является растворителем; при замерзании обладает уникальными свойствами расширения.

Ответ: вода 15

Задание 14. Составьте 3 цепи питания, используйте слова для выбора:

орехи, кабан, короед, кора дерева, дятел, белка, жёлуди, ястреб, волк.

Жёлуди - кабан - волк, орехи - белка - ястреб, кора - короед - дятел. 65

Задание 15. Назовите самый большой орган человека по его функциям.

Имеет массу около 4 кг, площадь около 2,5 квадратных метров. Выполняет защитную функцию, регулирует температуру тела, сообщает о прикосновениях и боли.

Ответ: кишечник 05

Задание 16. В каждом ряду найдите и подчеркните лишнее слово.

- 1) Гриб, снежинка, дерево, птица, микроб. +
- 2) Гранит, глина, асфальт, уголь, нефть. +
- 3) Шиповник, орешник, крыжовник, липа, малина. +
- 4) Гнездо, нора, курятник, берлога, муравейник. +
- 5) Лягушка, тритон, черепаха, саламандра, жаба. -
- 6) Термометр, барометр, ножницы, флюгер, микроскоп. +
- 7) Франция, Китай, Санкт-Петербург, Россия, Германия. +

Задание 17. В Тульской области находится исток одной из крупных рек России. Это река впадает в Чёрное море. Как называется эта река?

Ответ: Ана-Ока 05

Задание 18. В городе Туле есть удивительная скульптура, которая расположена на входе в Тульский экзотариум. Какое животное изображено в данной скульптуре?

Ответ: слон 05

Задание 19. Назовите писателя, чьим именем являлась усадьба Ясная Поляна?

Ответ: Лев Николаевич Толстой 15



Городская олимпиада младших школьников и обучающихся 5-6-х классов «Тулячок»
2024-2025 учебного года по окружающему миру
Школьный этап
4 класс

ОО: _____

Время выполнения: 45 минут

Количество баллов: 100

Шифр участника

416

ВПИШИ ОПРЕДЕЛЕНИЯ В ЗАДАНИЯХ 1-8

1. Какой океан омывает Евразию с севера?

Северный ледовитый

25

2. На территории России граница между Европой и Азией проходит по

полю пустыне

05

3. Северные олени значительную часть года питаются ягелем. Это

растение

05

4. Основным законом РФ это Верховство Конституции

05

5. Удивительное животное, житель Арктики, современник мамонта, доживший до наших дней? морж

05

6. Уменьшенное изображение земной поверхности на плоскости с помощью условных знаков

Это карта

25

7. Третья по удаленности от Солнца планета.

Это земля

25

8. У какой рыбы, широко распространенной вдоль всего побережья Евразии и во внутренних ее морях, оба глаза на правой стороне головы?

кабан

25

9. У Агнии Барто есть строки


Мы в своей тетрадке с ней

Нарисуем все листы

И не скажем об осине:

«Ах, береза, это ты!»

На каком рисунке изображен лист березы?



25

10. Подчеркни лишнее слово в каждом ряду. Объясни свой выбор.

1. Озеро, пруд, тундра, река, болото.

тундра это природная зона, а остальные водоемы

2. Байкал, Лена, Амур, Ока, Нева, Дон.

Байкал это озеро, а остальные реки

3. Тихий, Атлантический, Евразия, Северный Ледовитый, Индийский.

Евразия это материк, а остальные океаны.

11. Какая из перечисленных пород является известняком?

а) мрамор **б) уголь** в) гранит

12. Напиши цвета флага Российской Федерации, и поясни, что означает каждый цвет

1. Белый облака

2. Синий небо

3. Красный стены Кремля

13. На пути водного потока Волги отсутствуют...

а) тундра б) смешанные леса в) лесостепи г) степи д) полупустыни

14. О какой природной зоне идёт речь в данном отрывке:

«Здесь произрастают удивительные растения: карликовая берёза, ягель, которым с удовольствием питаются коренные жители этих мест — олени. А люди в этих местах ведут кочевой образ жизни, и живут они в особенных домах-ярангах, покрытых шкурами оленей».

тундра

15. В таблице приведены данные о погоде в четырёх разных городах.


Город	Температура	Облачность
А	5 °С	Облачно
В	-5 °С	Ясно
С	-5 °С	Облачно
Д	5 °С	Ясно

В каком городе, скорее всего, идёт снег?

А **С** В Д

45

16. Герб какого города представлен на рисунке? Что изображено на гербе?



герб Тулы, два киллика, створ^ы, два молотка 45

17. Дата запуска первого искусственного спутника Земли.

- 1) 12 апреля 1961 года
- 2) 1 июня 1960 года
- 3) 4 октября 1957 года

25

18. Установи соответствие и соедини стрелками правильные ответы

Слив сточных вод заводами и фабриками	Загрязнение воздуха
Выброс дыма предприятиями	Уменьшение количества лесов на Земле
Неумеренная охота на диких зверей и птиц	Загрязнение водоёмов
Заготовка древесины	Исчезновение некоторых видов животных

85

19. Дополни предложения. В них говорится о свойствах воды.

Вода не имеет цвета, запаха и вкуса. Если воду нагреть до кипения, то она превратится в пар. Если её охладить до нуля градусов, то вода превратится в лёд. Вода хорошо растворяет соль и сахар, но не растворяет песок и глину. Без воды не может прожить ни одно живое существо на планете Земля.

185. 14

20. Где произрастают эти растения?

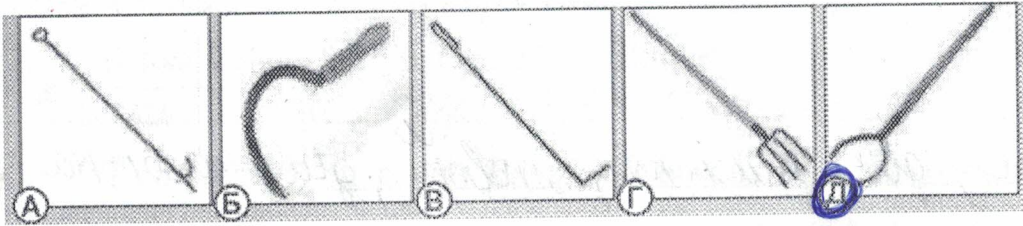
1. Просо	а) луг
2. Тимофеевка	
3. Рогоз	б) поле
4. Ряска	
5. Ячмень	в) водоем
6. Кукуруза	

1	2	3	4	5	6
б	а	в	д	б	б

55

21. На каком рисунке изображен инструмент важный для приготовления в русской печи? Запиши название этого инструмента.

Ухват



35

22. Расположи исторические события в хронологическом порядке (расставь впереди цифры от 1 до 6)

- ⑤ Основание Санкт-Петербурга
- ① Крещение Руси
- ⑥ Первый полет человека в космос
- ④ Бородинская битва
- ⑦ Великая Отечественная война
- ② Куликовская битва


65

23. Вопросы по ПДД

1. Какой знак обязательно устанавливают около детских учреждений?
Осторожно, дети могут выбежать на дорогу.
2. Запрещающие знаки имеют форму и цвет
Круглая форма, красный цвет.
3. С какого возраста разрешается управлять велосипедом при движении по дорогам?
с 14 лет

35

24. Дерево и лев очень не похожи друг на друга. Но они относятся к живой природе и имеют общие особенности. Например, чтобы выжить, им обоим нужна вода.



Запиши две другие особенности, которые имеют и дерево, и лев.

Ответ: для жизни им необходимы воздух, приносят потомство, умиряются.

45